

Devoir en classe

Exercice 1 (sur 3 points) COMPARAISON

Comparer les périmètres des figures suivantes :




Figure-1

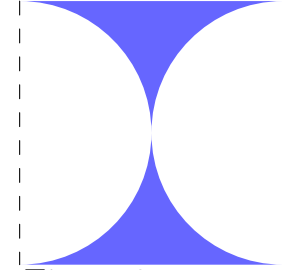


Figure-2


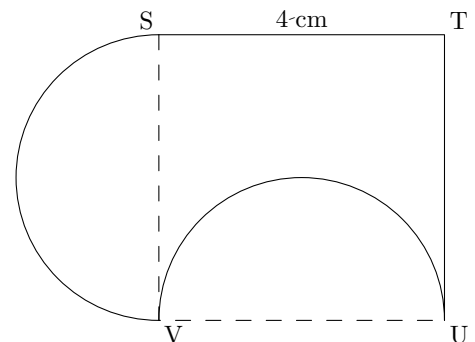
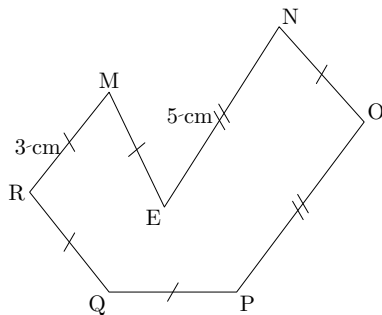
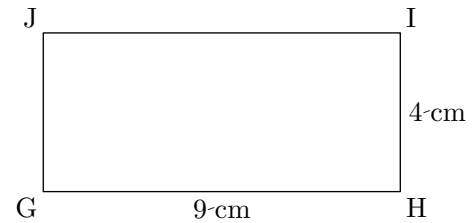
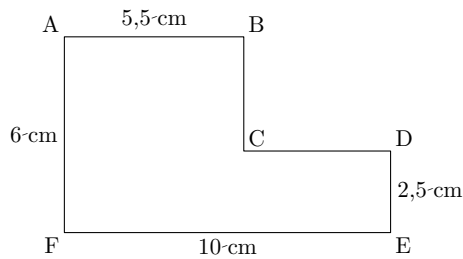


Figure-3

Exercice 2 (sur 12 points) CALCUL DE PÉRIMÈTRES

Calcul le périmètre des figures ci-dessous :



Exercice 3 (sur 5 points) LA GRANDE ROUE

À l'exposition universelle de Paris en 1900, on pouvait monter dans la grande roue. Celle-ci avait un diamètre de 93 m.

Quelle longueur avait-on parcourue en :

- 1/ 1 tour ?
- 2/ 10 tours ?
- 3/ 20 tours ?