





Consignes Pour chacun des énoncés suivants :

- construis une figure à *main levée* et au crayon gris dans la colonne centrale du tableau ;
- construis une figure *aux instruments* et au crayon gris dans la colonne de droite du tableau ;
- construis, à l'aide du logiciel, la figure à l'écran puis bouge les points !

ÉNONCÉ	Figure à main levée	Figure aux instruments
Place deux points A et B . Trace le segment $[AB]$. Trace le cercle de centre A et qui passe par B . Trace le cercle de centre B et qui passe par A .		
Icones à utiliser :		



ÉNONCÉ	Figure à main levée	Figure aux instruments
Trace un cercle de centre A et de rayon 3 cm. Place deux points B et C sur ce cercle. Trace le segment $[BC]$.		
Icones à utiliser :		



ÉNONCÉ	Figure à main levée	Figure aux instruments
Place deux points A et B . Trace le segment $[AB]$. Trace le cercle de diamètre $[AB]$.		
Icones à utiliser :	