







Consignes Pour chacun des énoncés suivants :

- construis une figure à *main levée* et au crayon gris dans la colonne centrale du tableau ;
- construis une figure *aux instruments* et au crayon gris dans la colonne de droite du tableau ;
- construis, à l'aide du logiciel, la figure à l'écran puis bouge les points !

ÉNONCÉ	Figure à main levée	Figure aux instruments
Place deux points A et B . Trace la droite (AB) . Place un point C sur la droite (AB) .		
Icones à utiliser :	 	
ÉNONCÉ	Figure à main levée	Figure aux instruments
Place deux points A et B . Trace le segment $[AB]$. Place un point C sur le segment $[AB]$.		
Icones à utiliser :	 	
ÉNONCÉ	Figure à main levée	Figure aux instruments
Place deux points A et B . Trace la droite (AB) . Place deux points C et D . Trace la droite (CD) . Place le point d'intersection des droites (AB) et (CD) . Il s'appelle E .		
Icones à utiliser :	