

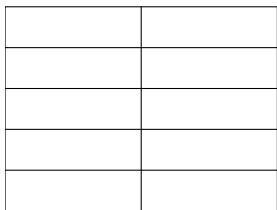



1/ Chaque figure ci-dessous représente un **même rectangle** découpé de différentes façons en parts égales. Colorie sur chacune des figures la fraction  $\frac{3}{5}$ .



2/

Figure 1	Figure 2	Figure 3	Figure 4
$\frac{3}{5}$			

Pour les figures 2, 3 et 4 ; écris une autre fraction qui représente la partie du rectangle que tu as coloriée.

3/ Que peut-on dire de ces fractions ? .....

.....