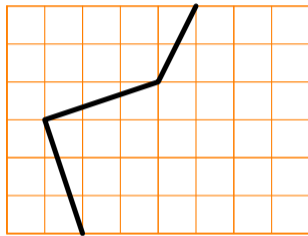
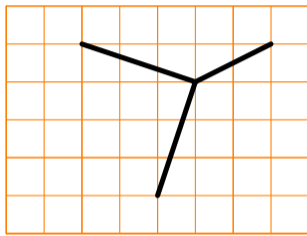
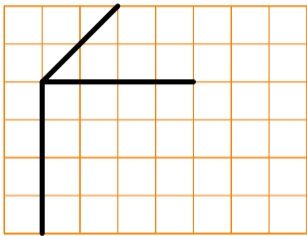


( ★ ★ ★ ★ ★ )

On a dessiné trois arêtes d'un cube. En respectant les règles de la perspective cavalière, termine chacun des dessins suivants.



---

Travail sur la représentation mentale d'un cube en perspective cavalière. À rapprocher de l'exercice `exo11.tex`.

---